

# もののかたち、もののいち

なまえ

がくしゅう日

## ポイント

- ① おなじ かたちの なかまを みつけましょう。
- ② つみきを つかって かたちを うつしましょう。
- ③ ものの いちを あらわして みましょう。

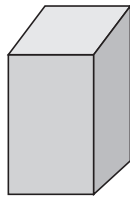
## ドリル

1 みぎの かと おなじ かたちは どれですか。

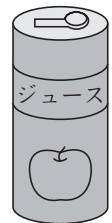
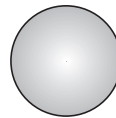
あ



い

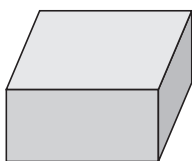


う





2 ちがう なかまの かたちは どれですか。

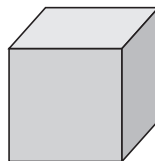
あ



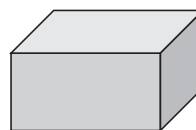
い



う



え




### 3 みぎの えを みて こたえましょう。

(1) まるは なんこ ありますか。

(2) さんかくは なんこ ありますか。

(3) しかくは なんこ ありますか。

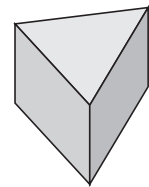
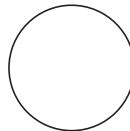
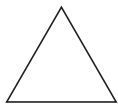


### 4 みぎの つみきを うつして かける かたちを ぜんぶ こたえましょう。

㊦

㊧

㊨




### 5 16にんが みぎの えの ように すわって います。

うしろから 2ばんめで ひだりから 3ばんめは だれですか。

〈まえ〉			
かずと	ゆみ	たくや	しずか
しげる	てつ	なおこ	ゆずる
ひとみ	まなぶ	けんた	えいじ
みつぐ	なつこ	あい	たかし
〈うしろ〉			

〈ひだり〉

〈みぎ〉



もののかたち、もののいち

かいとう	ヒント
<div>1</div> <div>①あ</div>	<div>1</div> <div>かんは つつの かたちです。 うえと したに まるが あります。</div>
<div>2</div> <div>①い</div>	<div>2</div> <div>①あ, ①う, ①えは うえと したに しかくが あります。 ①いは うえと したに さんかくが あります。</div>
<div>3</div> <div>(1) 3こ (2) 5こ (3) 4こ</div>	<div>3</div> <div>かぞえる ときは えに すうじを かいて いくと まちがえません。</div>
<div>4</div> <div>①あ, ①い</div>	<div>4</div> <div>さんかくと ながしかくが かけます。 まるは かけません。</div>
<div>5</div> <div>けんた</div>	