

ながさ、かさ

なまえ

がくしゅう日

ポイント

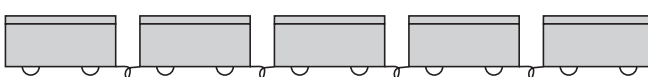
- ① ながさを はしを そろえて ならべたり ますめを かぞえたりして くらべましょう。
- ② みずの かさを おなじ コップに いれて くらべましょう。

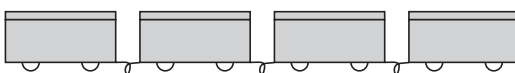
ドリル

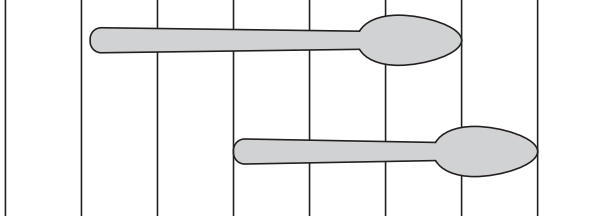
1 ながい ほうの きごうを こたえましょう。

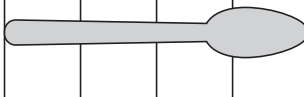
(1) ① 

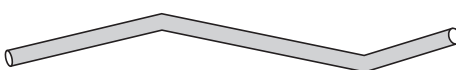
② 

(2) ① 

② 

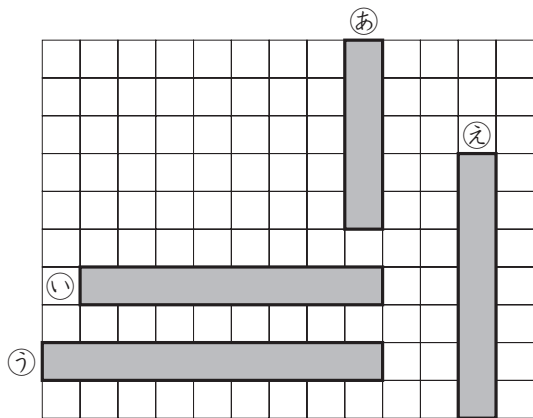
(3) ① 

② 

(4) ① 

② 

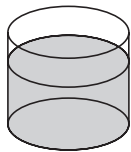

2 みじかい じゅんに きごうを ならべましょう。



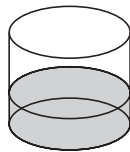
→ → →

3 アと イでは, どちらが おおく はいりますか。

ア



イ



4 みずが どれだけ はいるかを コップで しらべました。
みずが おおく はいる じゅんに きごうを ならべましょう。

ア



イ



ウ



→ →

ながさ，かさ

| かいとう | ヒント |
|---|--|
| <p>1</p> <p>(1) ① (2) ② (3) ② (4) ②</p> <p>2</p> <p>②→③→①→④</p> <p>3</p> <p>ア</p> <p>4</p> <p>ア→ウ→イ</p> | <p>1</p> <p>(1) はしが そろって いるか たしかめます。 (2) 1だいは おなじ ながさです。 (3) せんの あいだは おなじ ながさです。 (4) はしと はしが そろって います。</p> <p>2</p> <p>ますめの かずを かぞえます。 ② 5こ ① 8こ ④ 9こ ③ 7こ ひとつの ますめは たてと よこの ながさが おなじです。</p> <p>3</p> <p>アと イの みずを おなじ いれものに いれると，アの ほうが おおい ことが わかります。</p> <p>4</p> <p>アは コップで 8ぱいの みずが はいり ます。 イは，コップで 5ぱいの みずが はいり ます。 ウは コップで 6ぱいの みずが はいり ます。</p> |