

長さ

名前

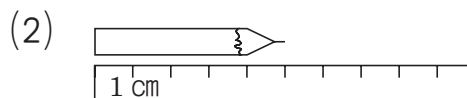
がくしゅう日

ポイント

長さは、1センチメートルが いくつぶん あるかで あらわします。
 センチメートルは 長さの たんいで、cmと 書きます。
 $1\text{cm} = 10\text{mm}$, $1\text{m} = 100\text{cm}$ と いう かんけいで、
 mm(ミリメートル), m(メートル) も 長さの たんいです。

ドリル

1 えんぴつの 長さは どれだけですか。



2 つぎの 長さの 直線を ひきましょう。

(1) 6 cm 3 mm

(2) 4 cm 5 mm

(3) 3 cm 8 mm

(4) 7 cm 2 mm

3 に あてはまる 数を 書きましょう。

(1) $3\text{ m} = \text{ cm}$ (2) $5\text{ m } 40\text{ cm} = \text{ cm}$

(3) $100\text{ cm} = \text{ m}$

(4) $780\text{ cm} = \text{ m } \text{ cm}$

4 どちらが 長いでしょうか。

- (1) 6 m と 602 cm (2) $4\text{ m } 70\text{ cm}$ と 407 cm

5 つぎの 長さは 何cmですか。また、何m何cmですか。

- (1) 1 m の ものさしで 8つぶんと、あと 30 cm

 cm

 m cm

- (2) 1 m より 15 cm 長い 長さ

 cm

 m cm

- (3) 30 cm の ものさしで 4つぶん

 cm

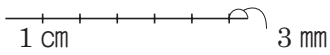
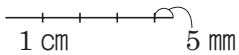
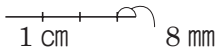
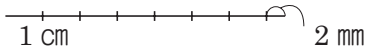
 m cm

6 へやの よこの 長さを はかったら、 1 m の ものさしで 4つぶんと 60 cm ありました。へやの よこの 長さは 何m何cmですか。また、何cmですか。

 m cm

 cm

長さ

かいとう	ヒント
<p>1</p> <p>(1) 7cm (2) 5cm</p>	<p>1</p> <p>(1) 1めもりが 1cmで 7めもりの 長さなので 7cmと なります。</p>
<p>2</p> <p>(1) </p> <p>(2) </p> <p>(3) </p> <p>(4) </p>	<p>2</p> <p>(2) 4cmと 5mm, 5mmは 1cmの はんぶんの 長さです。</p>
<p>3</p> <p>(1) 300 (2) 540</p> <p>(3) 1 (4) 7, 80</p>	<p>3</p> <p>(2) $5\text{m} = 500\text{cm}$</p> <p>(4) 780cmは 700cmと 80cmです。 $700\text{cm} = 7\text{m}$</p>
<p>4</p> <p>(1) 602cm</p> <p>(2) 4m70cm</p>	<p>4</p> <p>(1) $6\text{m} = 600\text{cm}$</p> <p>(2) $4\text{m}70\text{cm} = 470\text{cm}$</p>
<p>5</p> <p>(1) 830cm, 8m30cm</p> <p>(2) 115cm, 1m15cm</p> <p>(3) 120cm, 1m20cm</p>	<p>5</p> <p>(1) $1\text{m} = 100\text{cm}$だから 1mの 8つぶんは 800cmです。</p> <p>(3) 30cmを 4つ あわせると 120cmです。</p>
<p>6</p> <p>4m60cm</p> <p>460cm</p>	<p>6</p> <p>1mの 4つぶんは 4mです。 $4\text{m} = 400\text{cm}$</p>